

Matematikaflevering 19

Hermed får du matematikafleveringen til **onsdag d. 10. marts 2010**.

Skriv opgaverne pænt ind i et af dit matematikhæfte og aflever det til mig.

Rigtig god fornøjelse ☺

Allan

Opgave 1:

Sæt disse tal ind i et pindediagram, og beregn gennemsnittet

27,2 - 41,4 - 27,9 - 2 - 11,4 - 100,45 - 95,1 - 66,3 - 19,5 - 50 - 75 - 6,55 - 98,3

Opgave 2:

Regn opgaverne.

A $14,89 - 20$

B $189,2228 - 200$

C $25555 \cdot 25555$

D $2 : 3,5$

E $0,005 + 500,05$

F $3^3 + 6^2$

Opgave 3:

Tegn trekant ABC og trekant DEF.

A = (-5,-4) B = (-2,-8)

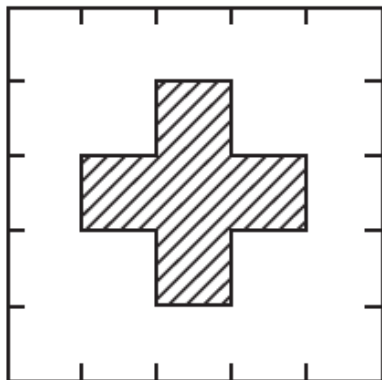
C = (-1,-6) D = (-8,1)

E = (7,1) F = (4,7)

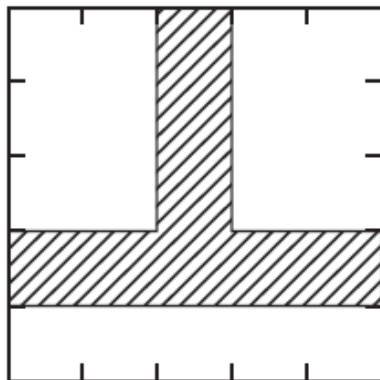
Opgave 4:

Hvor mange procent af figurerne er skraveret?

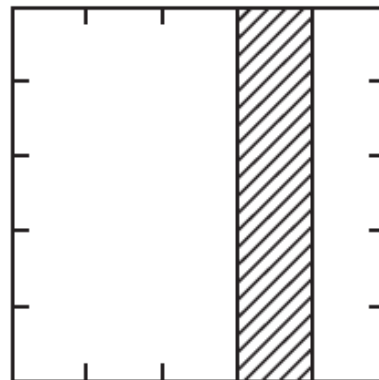
A)



B)



C)



Opgave 5:

Udregn:

$\frac{1}{3}$ af 96 =

$\frac{2}{5}$ af 120 =

$\frac{1}{4}$ af 96 =

$\frac{2}{3}$ af 87 =

$\frac{4}{5}$ af 80 =

$\frac{5}{6}$ af 150 =

$\frac{2}{3}$ af 186 =

$\frac{9}{10}$ af 190 =

58	125	24
72	128	164
32	36	124
48	171	64

Opgave 6:

Find dine klassekammeraters fødselsdag, og beregn hvor gamle i er i gennemsnit den 10. marts 2010